





Momo hat in der Schule etwas über Palindromzahlen gelernt.  
Er erklärt Mia: „Palindromzahl sind vorwärts und rückwärts gelesen genau gleich. So wie zum Beispiel die Zahl 191.“  
Mia erwidert: „Oder die Zahl 323.“


-  Wie viele Palindromzahlen liegen zwischen 191 und 323?
-  Erkläre, wie du vorgegangen bist!

Klasse 3/4



Arithmetik



veröffentlicht unter cc-by-sa 4.0



Momo hat in der Schule etwas über Palindromzahlen gelernt.  
Er erklärt Mia: „Palindromzahl sind vorwärts und rückwärts gelesen genau gleich. So wie zum Beispiel die Zahl 191.“  
Mia erwidert: „Oder die Zahl 323.“


-  Wie viele Palindromzahlen liegen zwischen 191 und 323?
-  Erkläre, wie du vorgegangen bist!

Klasse 3/4



Arithmetik



veröffentlicht unter cc-by-sa 4.0



Momo hat in der Schule etwas über Palindromzahlen gelernt.  
Er erklärt Mia: „Palindromzahl sind vorwärts und rückwärts gelesen genau gleich. So wie zum Beispiel die Zahl 191.“  
Mia erwidert: „Oder die Zahl 323.“

-  Wie viele Palindromzahlen liegen zwischen 191 und 323?
-  Erkläre, wie du vorgegangen bist!

Klasse 3/4

Arithmetik



veröffentlicht unter cc-by-sa 4.0

