


Mia hat aus kleinen Erbsen Muster gelegt.



Sie legt insgesamt 10 Muster auf ihren Tisch.



Wie viele Erbsen braucht Mia für 10 Muster?




Erkläre, wie du vorgegangen bist!



Mia hat aus kleinen Erbsen Muster gelegt.


Sie legt insgesamt 10 Muster auf ihren Tisch.



Wie viele Erbsen braucht Mia für 10 Muster?




Erkläre, wie du vorgegangen bist!



Mia hat aus kleinen Erbsen Muster gelegt.

Sie legt insgesamt 10 Muster auf ihren Tisch.



Wie viele Erbsen braucht Mia für 10 Muster?



Erkläre, wie du vorgegangen bist!