
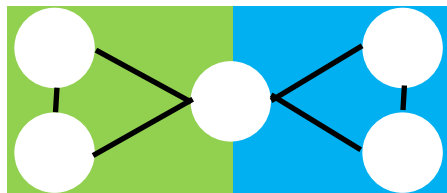




Mia hat einige Bälle mit Zahlen gefunden. Dazu hat sie einen Spielplan mit 5 Feldern erstellt. Wie muss Mia die Zahlen auf die Felder verteilen, damit die Summe in beiden Dreiecken gleich groß ist?

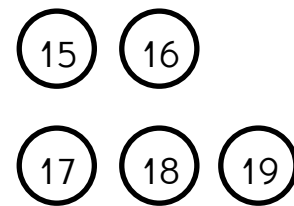
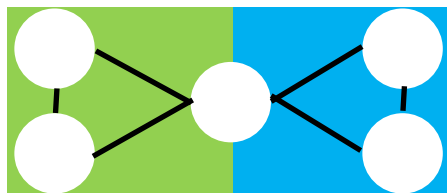


Schreibe alle möglichen Lösungen auf!

Erkläre, wie du vorgegangen bist!



Mia hat einige Bälle mit Zahlen gefunden. Dazu hat sie einen Spielplan mit 5 Feldern erstellt. Wie muss Mia die Zahlen auf die Felder verteilen, damit die Summe in beiden Dreiecken gleich groß ist?

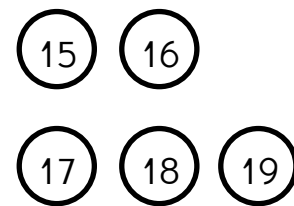
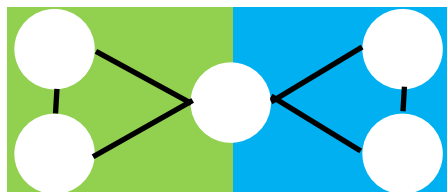


Schreibe alle möglichen Lösungen auf!

Erkläre, wie du vorgegangen bist!



Mia hat einige Bälle mit Zahlen gefunden. Dazu hat sie einen Spielplan mit 5 Feldern erstellt. Wie muss Mia die Zahlen auf die Felder verteilen, damit die Summe in beiden Dreiecken gleich groß ist?



Schreibe alle möglichen Lösungen auf!

Erkläre, wie du vorgegangen bist!