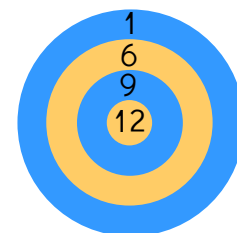


Mia hat sich eine kleine Dartscheibe gebaut.

Sie wirft mit drei Pfeilen auf die Schreibe. Die Zahlen der Würfe addiert sie.

Nun versucht sie verschiedene Summen zu erreichen.

Doch dies will ihr nicht immer gelingen.



Welche Summen von 10 bis 25 kann sie nicht erreichen?



Erkläre, wie du vorgegangen bist!

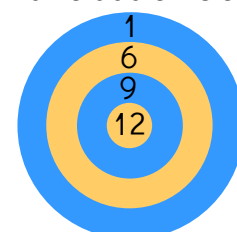


Mia hat sich eine kleine Dartscheibe gebaut.

Sie wirft mit drei Pfeilen auf die Schreibe. Die Zahlen der Würfe addiert sie.

Nun versucht sie verschiedene Summen zu erreichen.

Doch dies will ihr nicht immer gelingen.



Welche Summen von 10 bis 25 kann sie nicht erreichen?



Erkläre, wie du vorgegangen bist!

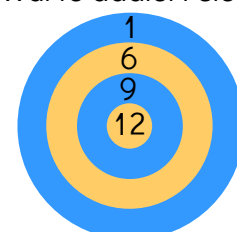


Mia hat sich eine kleine Dartscheibe gebaut.

Sie wirft mit drei Pfeilen auf die Schreibe. Die Zahlen der Würfe addiert sie.

Nun versucht sie verschiedene Summen zu erreichen.

Doch dies will ihr nicht immer gelingen.



Welche Summen von 10 bis 25 kann sie nicht erreichen?



Erkläre, wie du vorgegangen bist!