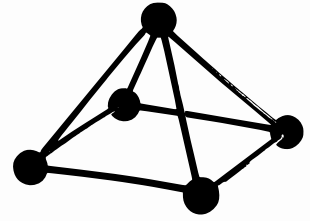




Mia hat sich aus 50 cm Draht das Modell einer Pyramide gebaut.  
 Alle Kanten sind in dem Modell exakt gleich lang.  
 Am Ende hat Mia noch 2 cm Draht übrig.



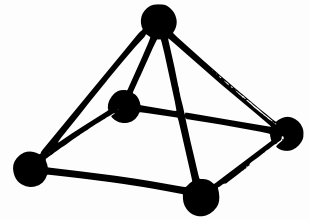
Wie lang sind die Kanten der Pyramide?



Erkläre, wie du vorgegangen bist!



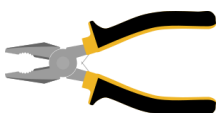

Mia hat sich aus 50 cm Draht das Modell einer Pyramide gebaut.  
 Alle Kanten sind in dem Modell exakt gleich lang.  
 Am Ende hat Mia noch 2 cm Draht übrig.



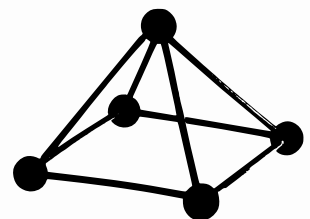
Wie lang sind die Kanten der Pyramide?



Erkläre, wie du vorgegangen bist!



Mia hat sich aus 50 cm Draht das Modell einer Pyramide gebaut.  
 Alle Kanten sind in dem Modell exakt gleich lang.  
 Am Ende hat Mia noch 2 cm Draht übrig.



Wie lang sind die Kanten der Pyramide?



Erkläre, wie du vorgegangen bist!